

パン屋さんでお買い物をしました。代金は、合わせていくらですか？



¥ 120




¥ 200



¥ 240



¥ 130




¥320




式

こたえ



式

こたえ



式

こたえ



式

こたえ

